

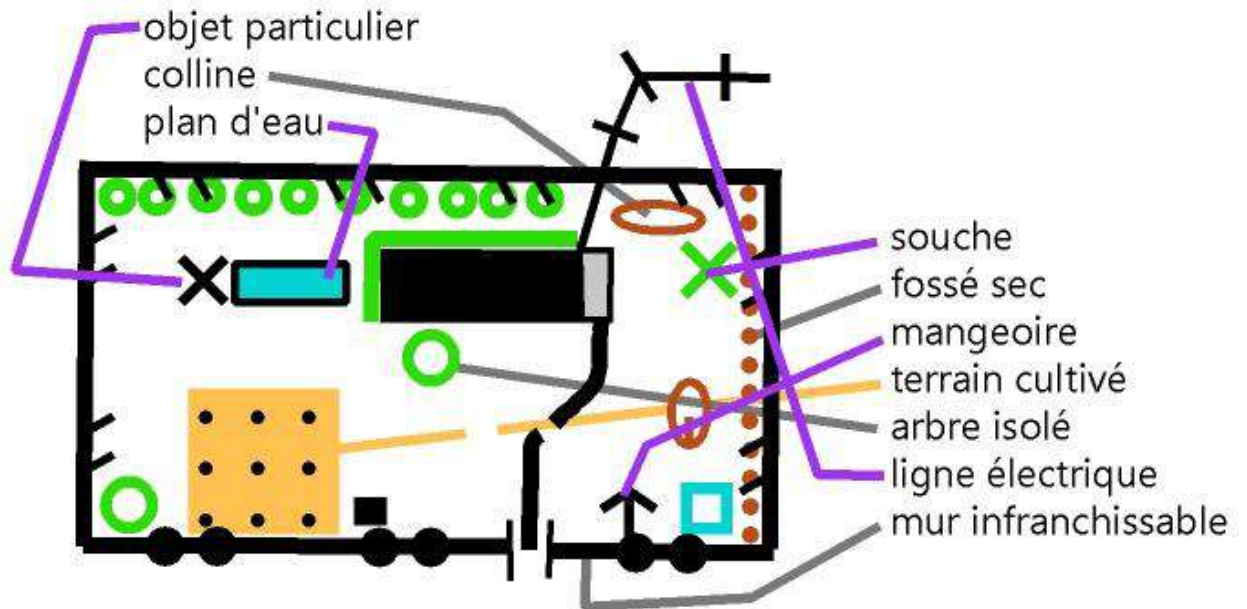
Nom- Prénom:



CORRIGÉ

1. Tu relies par une flèche les différents éléments indiqués à droite du plan
½ point par réponse juste

5 pts



2. Que t'indique le tableau ci-dessous ? Coche la case (ou les cases) qui conviennent
½ point par réponse juste

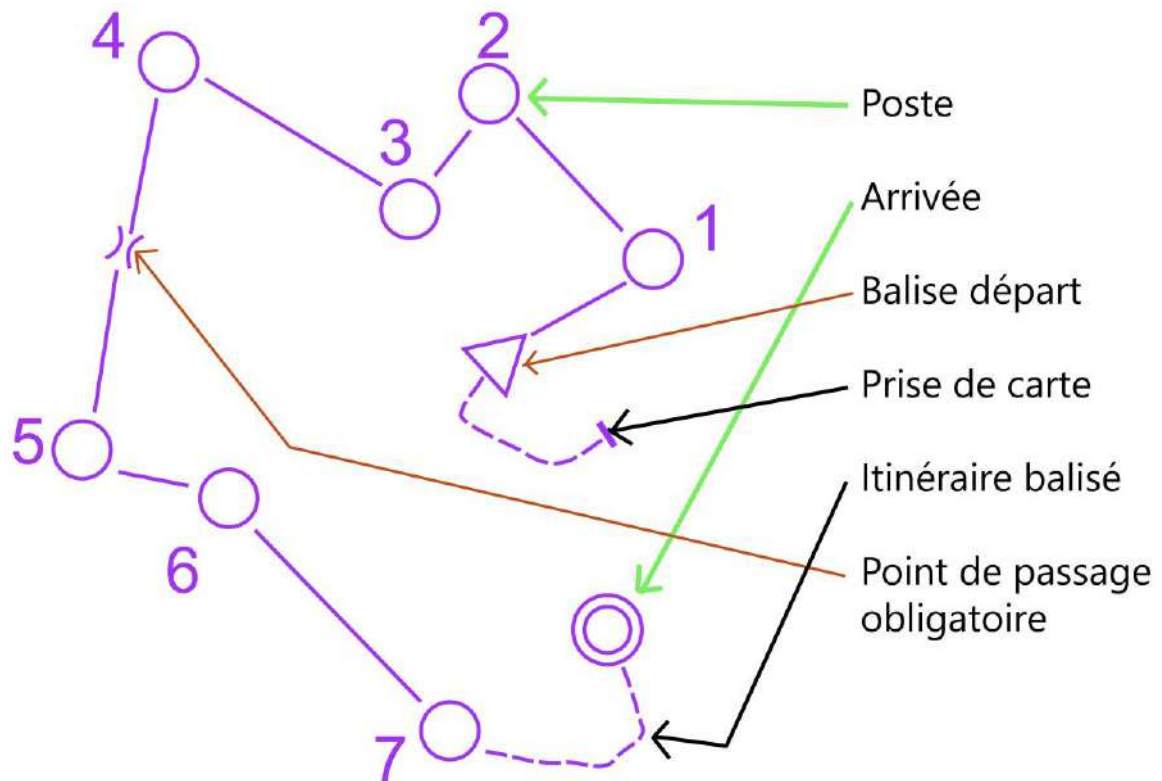
1 pt

- | | |
|---|--|
| <input checked="" type="checkbox"/> Le nom du circuit | <input checked="" type="checkbox"/> Le numéro de chaque poste |
| <input type="checkbox"/> Le nombre de coureurs | <input checked="" type="checkbox"/> La position de la balise par rapport à l'élément dessiné |



3. Tu dois relier par une flèche les éléments indiqués ci-dessous
½ point par réponse juste

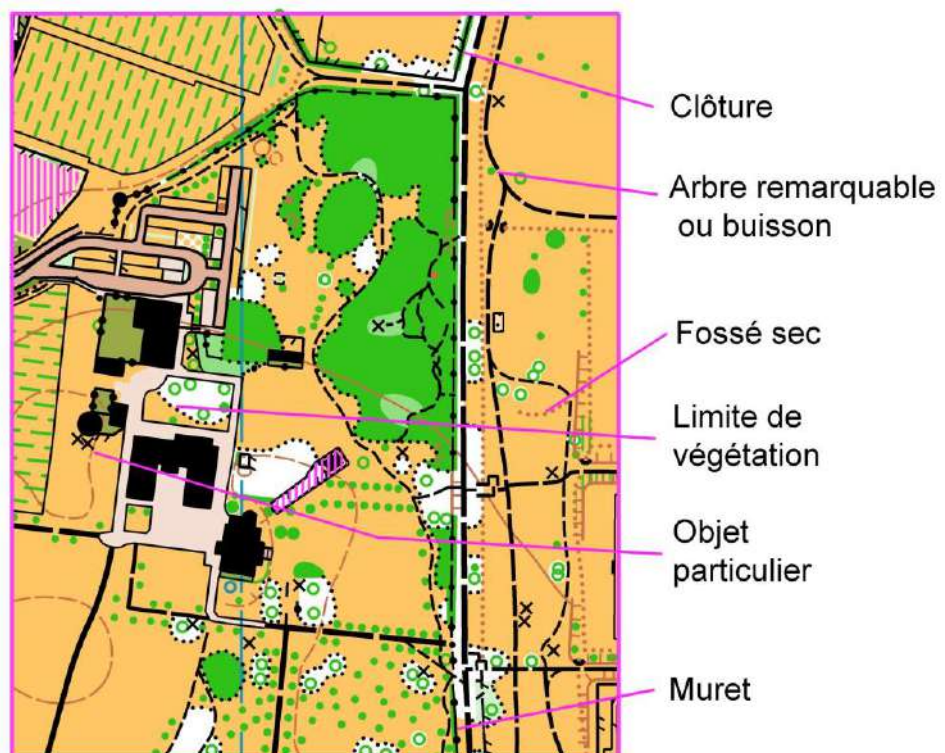
3 pts



4. Ces deux images A et B présentent six différences, peux-tu les retrouver et les indiquer par une flèche sur la carte A ?

3 pts

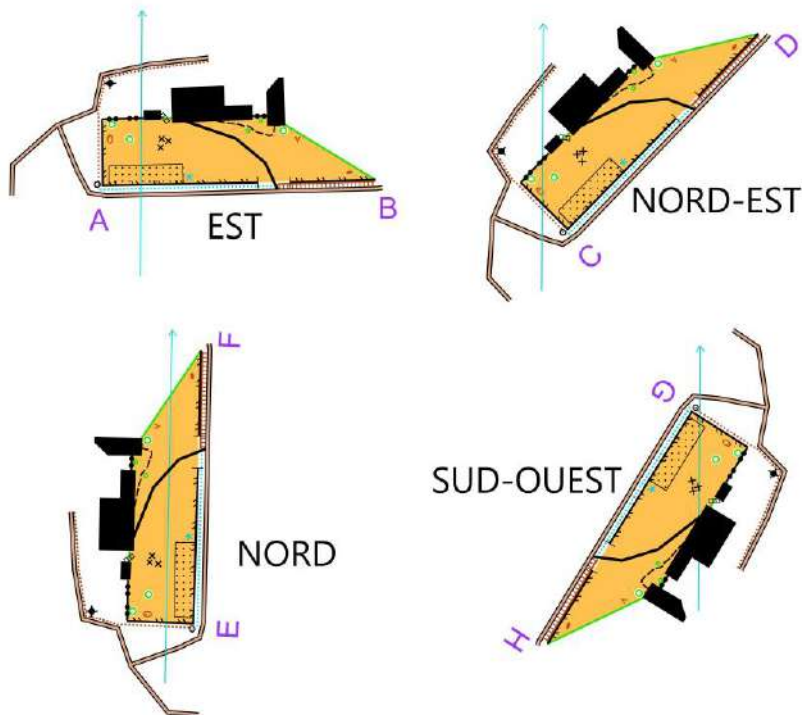
½ point par réponse juste



5. En utilisant les orientations d'une boussole, tu dois écrire la direction que tu dois suivre pour aller de A vers B, puis de C vers D, etc. (Exemple : Sud, Ouest, Nord-est, etc.)

½ point par réponse juste

2 pts



6. Réponds aux questions suivantes en cochant la bonne case

1 pt

½ point par réponse juste

Faut-il arroser son jardin par un goutte à goutte ou par un arrosage journalier ?

Goutte à goutte

Arrosage journalier

Quel arbre perd ses feuilles en hiver ?

Le pin

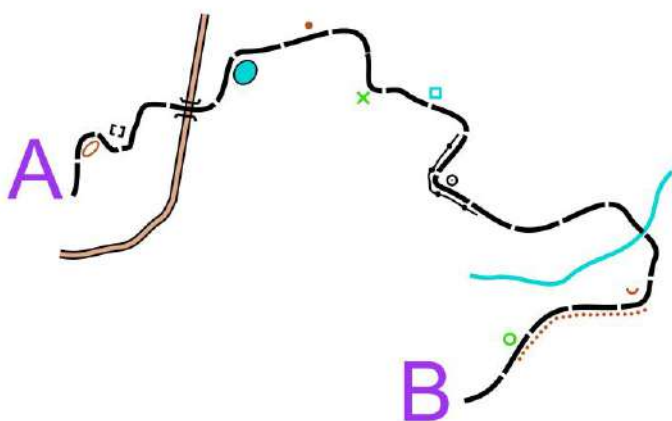
L'érable

7. Tu dois suivre le chemin qui va de A vers B. Remplis les colonnes ci-dessous en fonction des éléments que tu rencontres sur ce parcours, soit à Droite, soit à Gauche.

½ point par réponse juste

5 pts

Si le jeune indique «route et rivière», il faut l'accepter(droite/gauche ou les deux)



Gauche

Ruine
Butte
Puits
ou fontaine
Borne
Fossé sec

Droite

EXEMPLE : Colline
Mare
Souche
Muret
Cuvette ou petite dépression
Arbre particulier

