

Nom-Prénom :



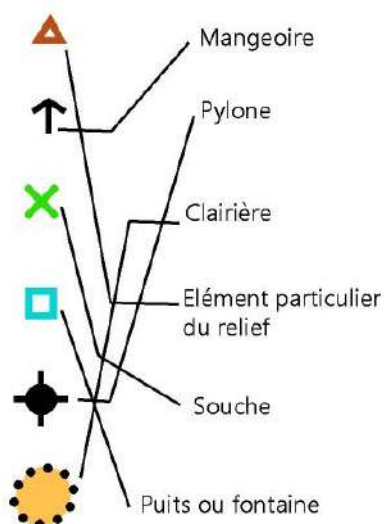
BALISE BLEUE

CORRIGÉ

1. Relie le symbole à sa signification

½ point par réponse juste


3 pts



2. Ecris en texte les définitions des postes au centre du cercle

½ point par réponse juste

2 pts



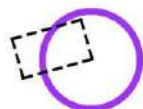
Bord Est (étendue d'eau
du lac infranchissable)



Jonction de
fossés secs



Croisement ou
intersection de
murets
infranchissables



Angle Sud est
de la ruine



2 pts

3. Réponds aux questions suivantes :

1 point par réponse juste

- Combien de temps faut-il à une canette métallique pour se dégrader dans la nature ?
 Jusqu'à 100ans Jusqu'à 10ans
- Les barrages n'ont aucun effet sur la vie aquatique
 Vrai Faux

4. D'après le tableau suivant, et selon l'exemple, tu choisis 6 postes dont tu inscris le numéro dans la 1^e colonne, et tu précises en clair la signification de leurs définitions.

3 pts

½ point par réponse juste

▷	S1						
	50		●			⊙	
	52	↓	⊗				
	59		⋄		Y		
	60		■			└	
	61		×				
	64	↖	△			⊙	
	65		⋈			┌	
	66		▧			└	
	67	↑	▨			└	

Butte pied sud

Souche la plus au sud

Jonction de chemins

Angle extérieur N-E du bâtiment

Objet particulier

Arbre le plus au N-O, côté ouest

Haie, extrêmité Est

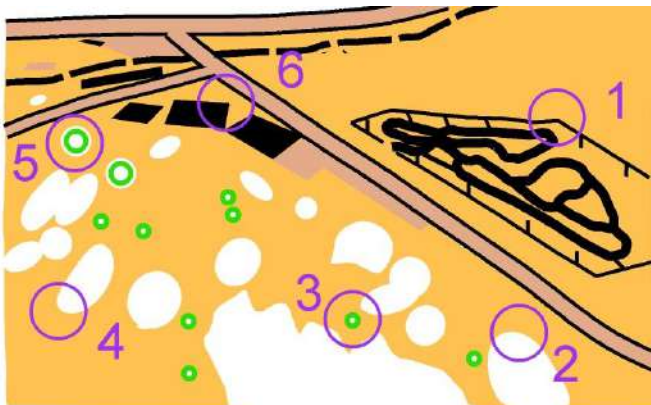
Clôture, angle intérieur S-O

Fossé sec leplus au N, extrêmité Sud

5. En observant la carte aérienne, tu reportes les postes de 1 à 6 sur la carte reproduite pour la CO

½ point par réponse juste

3 pts



6 . Tu dois reconstituer le puzzle de la carte en associant les lettres aux chiffres

½ point par réponse juste

3 pts



7. Dictée

4 pts

Voici une carte présentant 3 départs différents : tu dois positionner 4 postes et leur numéro correspondant sur la carte en suivant les instructions données

1 point par poste juste

