



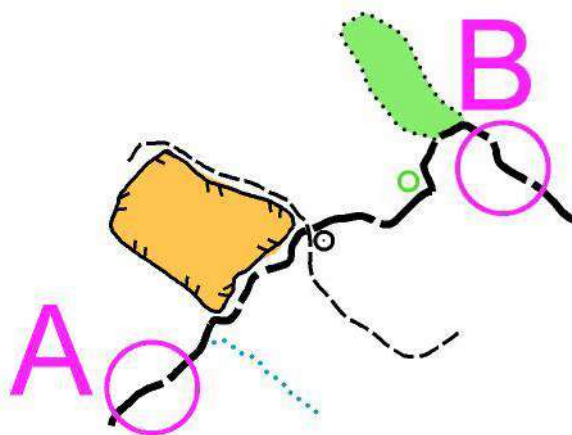
## BALISE VERTE

### CORRIGÉ

1. Pour aller de A en B, tu vas rencontrer différents éléments à droite et à gauche du chemin.

3,5 pts

Tu les indiques dans le tableau ci-dessous *Moins 1/2 point par réponse fausse ou absente*



GAUCHE	DROITE
Prairie clôturée ou terrain découvert clôturé	Fossé humide
Sentier	Sentier
Arbre isolé	Borne
Limite de végétation	

2. De quelle couleur sont représentés les éléments suivants sur une carte d'orientation ?

2 pts

*Moins 1/2 point par réponse fausse ou absente*

Une mare : **Bleu**

Un pré : **Jaune**

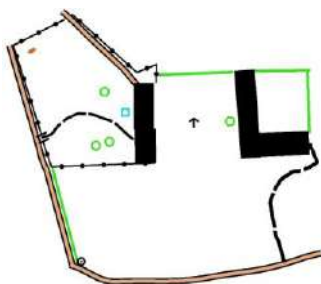
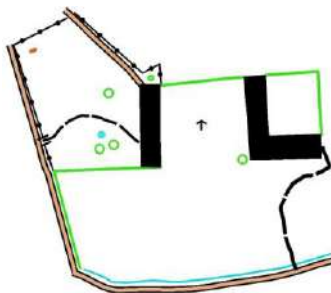
Une maison : **Noir**

La forêt : **Blanc et vert**

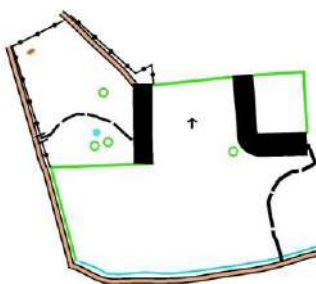


3. Voici un plan que tu dois bien observer. Il a été reproduit trois fois (A, B et C), mais un seul ne comporte pas d'erreur. Entoure la lettre A, B ou C qui représente exactement le modèle.

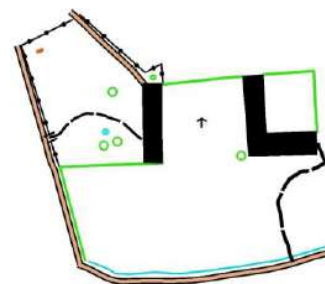
2 pts



A



B



C

4. Voici les pièces d'un puzzle, tu dois reconstituer la carte en notant les lettres A, B, C, D, E, F dans les bonnes cases ? *Moins 1/2 point par réponse fausse ou absente*

3 pts

	D	F	A
	B	E	C



5. Cette carte t'indique la direction du Nord.

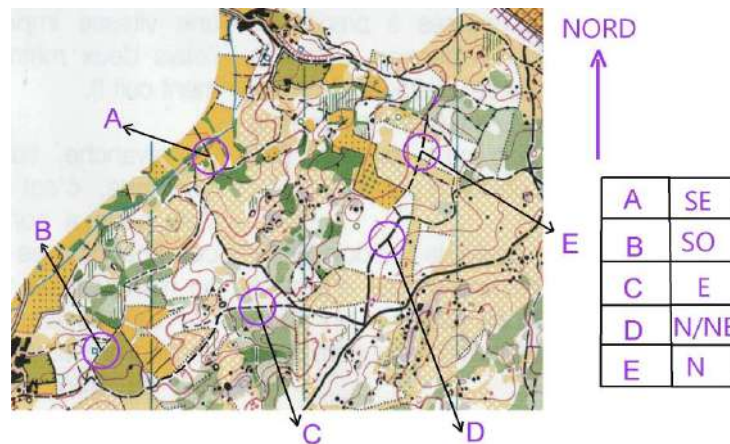
2,5 pts

*Moins 1/2 point par réponse fausse ou absente*

Le circuit proposé part du cercle A vers le cercle B, puis C et ainsi de suite jusqu'à E.

En t'appuyant sur la flèche du nord, tu indiques la direction que tu dois suivre sur le chemin quand tu es au centre de chaque cercle.

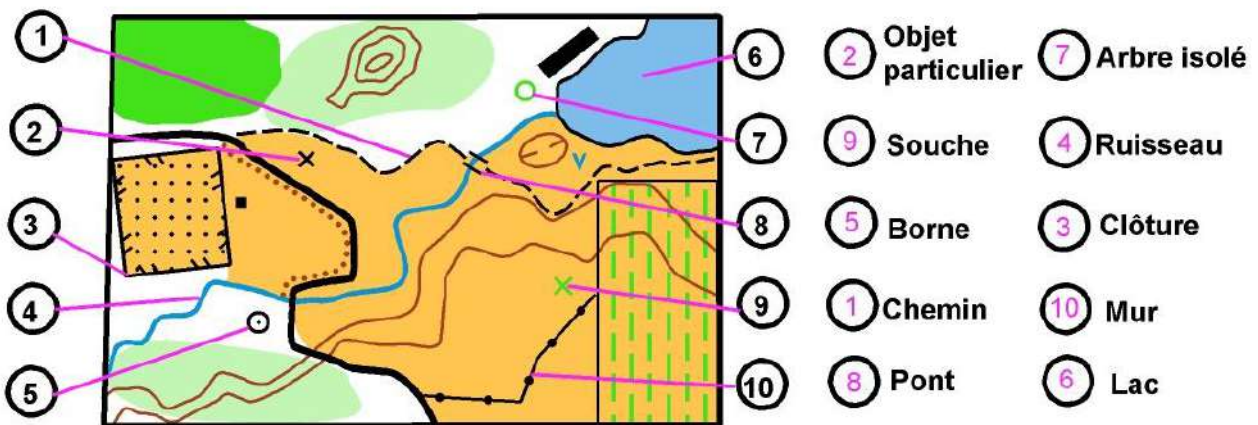
Dans le tableau tu inscris pour chaque lettre ta réponse (par exemple, N, S, SO, etc.)



6. Tu inscris dans le cercle le N° qui correspond à la bonne réponse

5 pts

*Moins 1/2 point par réponse fausse ou absente*



7. Réponds aux questions suivantes en cochant la bonne case *0,5 pt par réponse juste*

1 pt

- Ton école n'est qu'à 1 km de ta maison, il faut environ 15 minutes pour y aller à pied

Tu choisis la marche à pied ou le vélo	<input checked="" type="checkbox"/>
Tu demandes à tes parents de te conduire en voiture	<input type="checkbox"/>

- Tu as besoin d'utiliser un mouchoir en papier durant ta course, qu'en fais-tu après usage ?

Je le jette dans la forêt car il se dégrade	<input type="checkbox"/>
Je le remets dans ma poche pour le jeter plus tard dans une poubelle	<input checked="" type="checkbox"/>

8. Tu dois participer à une compétition à 10h30. Combien de temps devras-tu t'échauffer avant ta course ? Entoure la bonne réponse

1 pt

5 mn	<b>15 mn</b>	30 mn
------	--------------	-------