



## BALISE VERTE

### CORRIGE

1. Indique la signification des symboles suivants sur une carte

4 pts

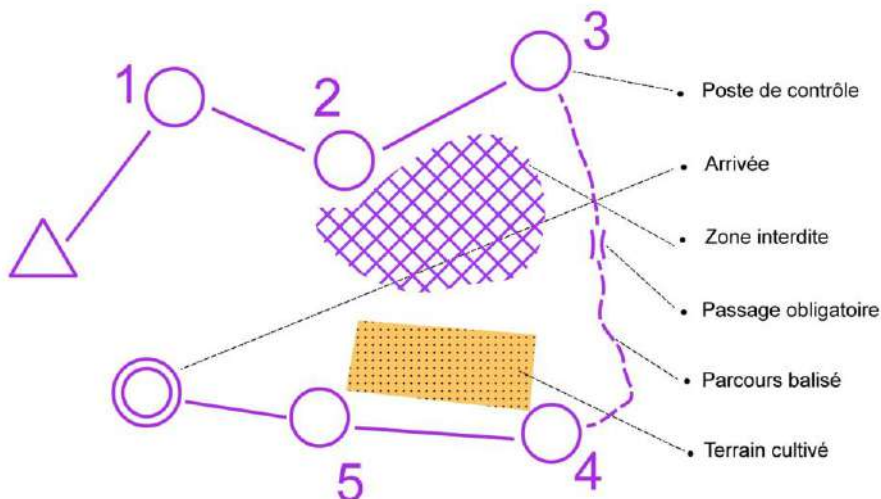
*Accorder 1 point toutes les 2 réponses justes*

	Bâtiment		Clotûre infranchissable
	Ruisseau		Souche
	Mur (ou muret)		Butte
	Champ (ou terrain découvert)		Borne
	Tour		Mare (ou lac)
	Arbre isolé		Limite de végétation

2. Sur ce circuit, tu dois relier par une flèche les éléments indiqués

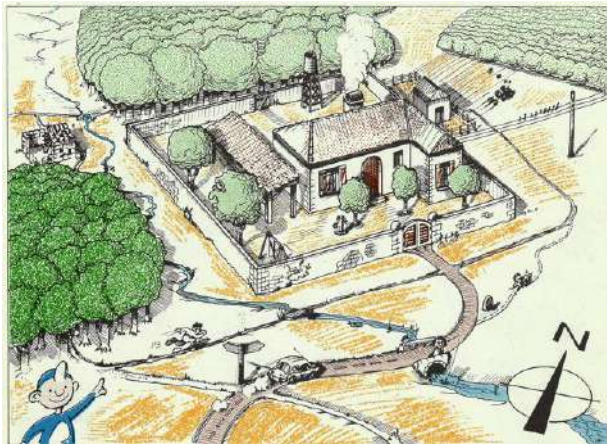
*Accorder 0,33 point par réponse juste*

2 pts

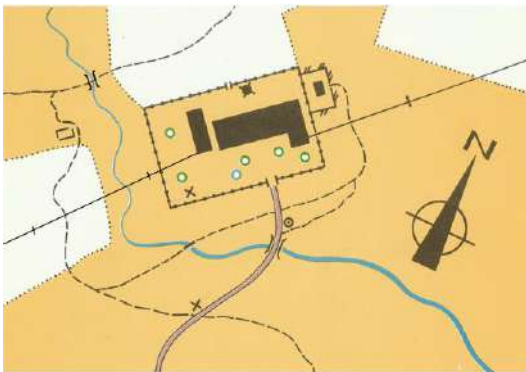
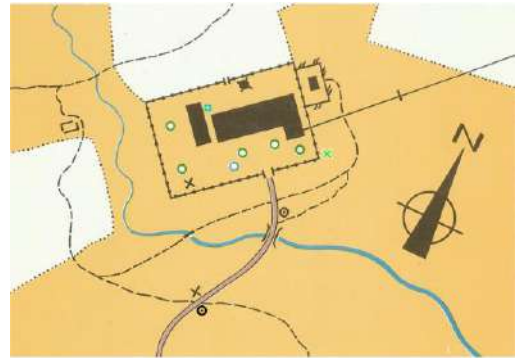


3. Quel plan correspond à la vue aérienne de ce terrain ? Entoure la lettre qui convient

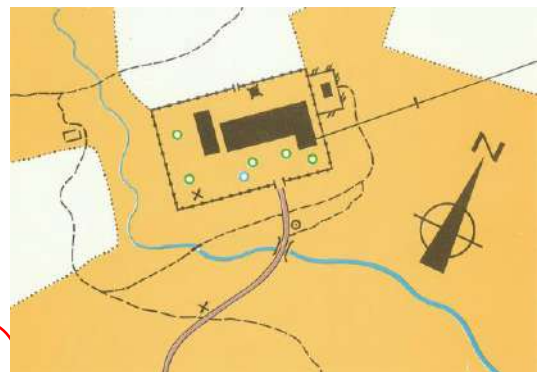
2 pts



A



B

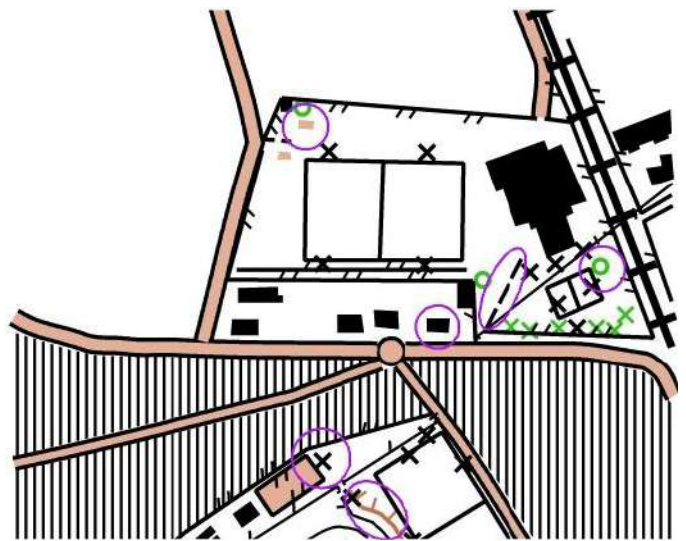
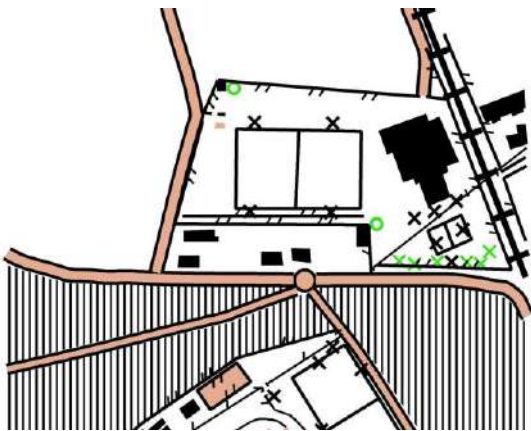


C

4. Indiquer les 6 différences que présentent ces deux cartes. Entoure les sur la carte de droite

Accorder 0,33 point par réponse juste

2 pts



5 . Réponds aux questions suivantes en cochant la bonne case.

*Accorder 0,5 par réponse juste*

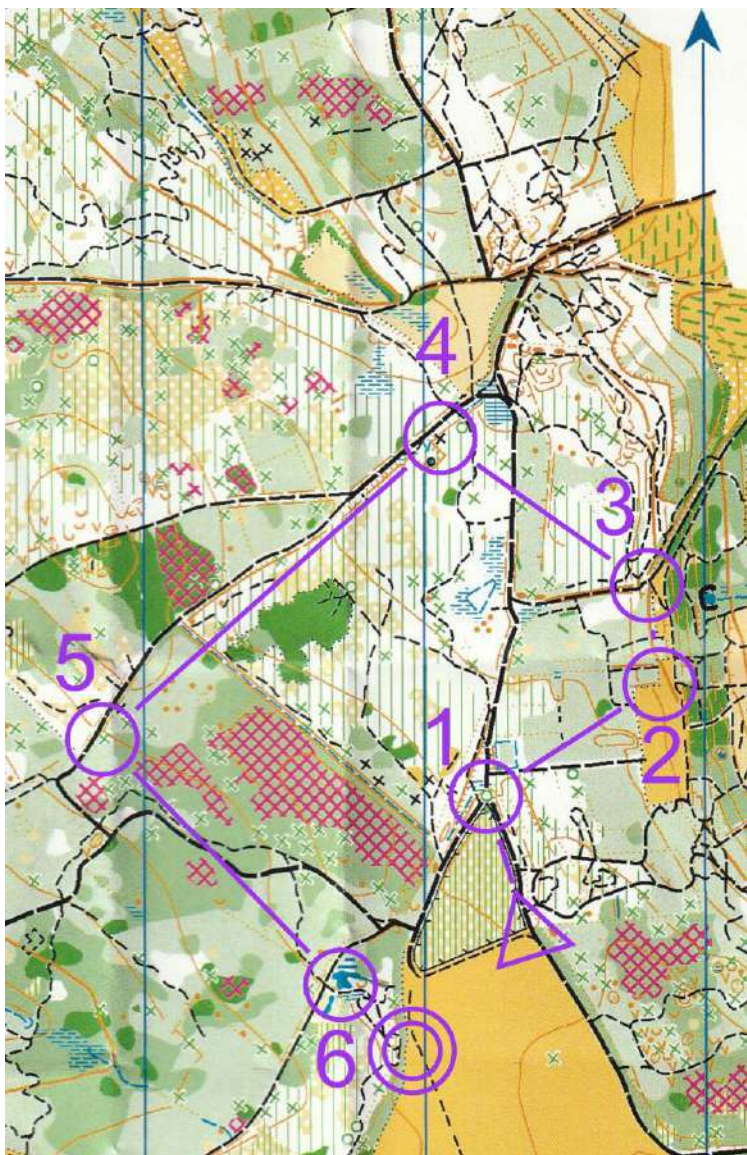
1 pt

Quel élément se dégrade le plus rapidement ?	Une peau d'orange	X
	Un chewing-gum	
Quand je prends une douche.....	Je fais couler l'eau pendant toute la durée de ma douche	
	J'arrête le robinet pendant que je me savonne	X

6. Tu dois écrire en clair et dans l'ordre du circuit la définition des postes de 1 à 6

*Accorder 0,5 point par réponse juste*

3 pts



1 - 31 : Arbre isolé

2 - 32 : Terrain découvert (ou champ) angle intérieur SE

3 - 33 : Jonction de chemins

4 - 34 : Objet particulier

5 - 35 : Souche

6 - 36 : Mare (ou lac) Bord Sud

*Accepter comme justes les définitions entre parenthèses*

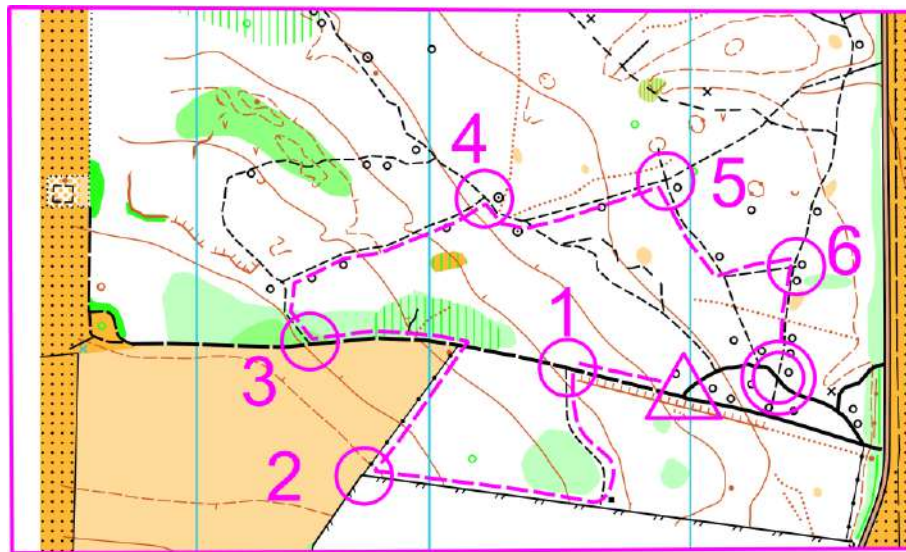


7. Indique les mains courantes que tu vas être amené à suivre et les changements de direction durant ton parcours en suivant le pointillé rose

3 pts

Exemple de X à Y : chemin, droite, clôture / de Y à Z : droite, chemin, gauche, chemin

0,5 point par réponse juste



de 1 vers 2 : gauche, chemin, droite, clôture  
 de 2 vers 3 : droite, muret, gauche, chemin  
 de 3 vers 4 : droite, chemin, droite, chemin

De 4 vers 5 : droite, chemin, gauche, chemin  
 De 5 vers 6 : droite, chemin, gauche, chemin  
 De 6 vers arrivée : droite, chemin

8. Tu dois donner l'orientation que t'indique une boussole pour aller d'une balise vers une autre. Utilise les directions suivantes : N, S, E, O, NE, NO, SE, SO

Accepter comme justes les définitions entre parenthèses

0,5 point par réponse juste

3 pts

Du départ vers le poste 1 : NE  
 Du poste 1 vers le poste 2 : E (SE)  
 Du poste 2 vers le poste 3 : NE (N)  
 Du poste 3 vers le poste 4 : E  
 Du poste 4 vers le poste 5 : S (SO)  
 Du poste 5 vers l'arrivée : O

